

Оценочные материалы по географии

Тест по географии (итоговый контроль) 7 класс

Вариант 1

1. Сколько лет существует планета Земля?

а) 8 млн. лет; б) 6 млрд. лет; в) 4,5 млрд. лет.

2. Самая протяженная горная цепь в мире – это:

а) Гималаи; б) Анды; в) Кордильеры.

3. Что образуется в тропосфере?

а) облака, дождь, снег, град, ветер; б) полярное сияние; в) серебристые облака.

4. Какую часть поверхности Земли занимает Мировой океан?

а) $\frac{3}{4}$; б) $\frac{1}{2}$; в) $\frac{2}{3}$.

5. Определите окраинное море:

а) Балтийское; б) Баренцево; в) Красное.

6. Выберите теплое течение в Мировом океане:

а) Канарское; б) Куросио; в) Перуанское.

7. Укажите острова расположенные в Тихом океане:

а) Сахалин, Новая Гвинея;

б) Мадагаскар, Шри-Ланка;

в) Исландия, Куба.

8. Какой материк ближе всего расположен к Антарктиде?

а) Австралия; б) Африка; в) Южная Америка.

9. Какие горы расположены на материке Африка:

а) Пиренеи, Драконовы, Гималаи; б) Атлас, Капские, Драконовы; в) Альпы, Капские, Анды.

10. Определите самую южную пустыню материка Африка:

а) Ливийская; б) Сахара; в) Калахари.

11. Для какой природной зоны Африки характерна многоярусность?
- а) экваториальные леса; б) тропические пустыни; в) саванны.
12. Укажите самое большое по площади озеро Африки?
- а) Чад; б) Ньяса; в) Виктория.
13. Нелетающая крупная птица Африки – это:
- а) Марабу; б) Страус; в) Нектарница.
14. Укажите растительность характерную для Австралии:
- а) секвойя, лиственница, папоротник;
- б) пальма, акация, пихта;
- в) эвкалипт, травяное и бутылочное дерево.
15. Какой канал отделяет Южную Америку от Северной Америки?
- а) Панамский; б) Суэцкий; в) Кильский.
16. Кто открыл материк Южная Америка?
- а) А. Веспуччи; б) Х. Колумб; в) А. Гумбольдт.
17. Как называется степь Южной Америки?
- а) Пампа; б) Сельва; в) Льянос.
18. Определите, водами, каких заливов омывается материк Северная Америка:
- а) Гудзонов, Мексиканский; б) Гвинейский, Бенгальский; в) Мексиканский, Бискайский.
19. Назовите коренную нацию Северной Америки:
- а) Американцы; б) Индейцы; в) Мексиканцы.
20. Укажите столицу Канады.
- а) Оттава; б) Монреаль; в) Квебек .

Тест по географии (итоговый контроль) 7 класс

Вариант 2

1. Сколько существует основных крупных литосферных плит Земли?

а) 5; б) 6; в) 7.

2. Какая горная система отделяет Европу от Азии?

а) Уральские горы;

б) Кавказские горы;

в) Горы Альпы.

3. Самый низкий от поверхности Земли слой атмосферы – это:

а) Тропосфера; б) Стратосфера; в) Ионосфера.

4. Что является основным источником нагревания атмосферы?

а) солнечные лучи, приходящие непосредственно в атмосферу;

б) рассеянная радиация;

в) тепловое излучение нагретой земной поверхности.

5. Какой процент гидросферы составляет Мировой океан?

а) 96,5% б) 70,5 % в) 36 %

6. Определите внутреннее море:

а) Аравийское; б) Средиземное; в) Охотское.

7. Выберите холодное течение в Мировом океане:

а) Гольфстрим; б) Лабрадорское; в) Куроисио.

8. Укажите острова, омываемые водами Атлантического океана:

а) Мадагаскар, Тасмания;

б) Гренландия, Великобритания;

в) Новая Гвинея, Шри-Ланка.

9. Определите вулкан, расположенный в Антарктиде:

а) Котопахи; б) Гекла; в) Эребус.

10. Какие плоскогорья расположены на материке Африка?

а) Декан, Бразильское;

б) Аравийское, Тибетское;

в) Эфиопское, Восточно – Африканское.

11. Укажите пустыню, по которой протекает река Нил:

а) Сахара; б) Ливийская; в) Намиб.

12. Какой питание у большинства рек Африки?

а) снеговое, дождевое; б) дождевое, грунтовое; в) грунтовое, ледниковое.

13. Самое быстрое животное в Африке – это:

а) зебра; б) гепард; в) лев.

14. Какие представители животного мира характерны для Австралии?

а) носорог, зебра, крокодил; б) коала, кенгуру, ехидна; в) лев, жираф, страус.

15. Какими океанами омывается материк Южная Америка?

а) Тихим и Атлантическим; б) Тихим и Индийским; в) Индийским и Атлантическим.

16. Какая самая полноводная река мира расположена в Южной Америке?

а) Парана; б) Амазонка; в) Конго.

17. Как называют влажные экваториальные леса Южной Америки?

а) Сельва; б) Льянос; в) Кампос.

18. От Евразии Северная Америка отделяется:

а) Панамским каналом; б) Проливом Дрейка; в) Беринговым проливом.

19. Назовите коренную нацию Северной Америки:

а) Канадцы; б) Эскимосы; в) Американцы.

20. Укажите столицу США:

а) Чикаго б) Нью-Йорк в) Вашингтон

Ключ к тестам по географии – 7 класс (итоговый контроль)

2- Б

3- А

4 - В

5- Б

6- Б

7- А

8- В

9- Б

10- В

11- А

12- В

13- Б

14- В

15- А

16- Б

17- А

18- А

19- Б

20- А

1- B

2- A

3- A

4 - B

5- A

6- Б

7- Б

8- Б

9- B

10- B

11- A

12- Б

13- Б

14- Б

15- A

16- Б

17- A

18- B

19- Б

20- B

Итоговая контрольная работа по географии за 8 класс

1 вариант

1. Укажите крайнюю северную материковую точку России

1) мыс Челюскин; 2) Мыс Диксон; 3) Мыс Флигели; 4) Мыс Лопатка.

2. С какой страной Россия не имеет сухопутных границ:

1) Украина; 2) Белоруссия; 3) Армения; 4) Азербайджан.

3. Выявите, какое время показывают часы в Москве (II часовой пояс), если известно, что в г. Норильске (VI часовой пояс) в данный момент 20 ч.

1) 16 ч.; 2) 24 ч.; 3) 2 ч.; 4) 17 ч.

4. Обширная область земной коры, обладающая устойчивостью, это –

1) Платформа; 2) Горст; 3) Щит; 4) Морена.

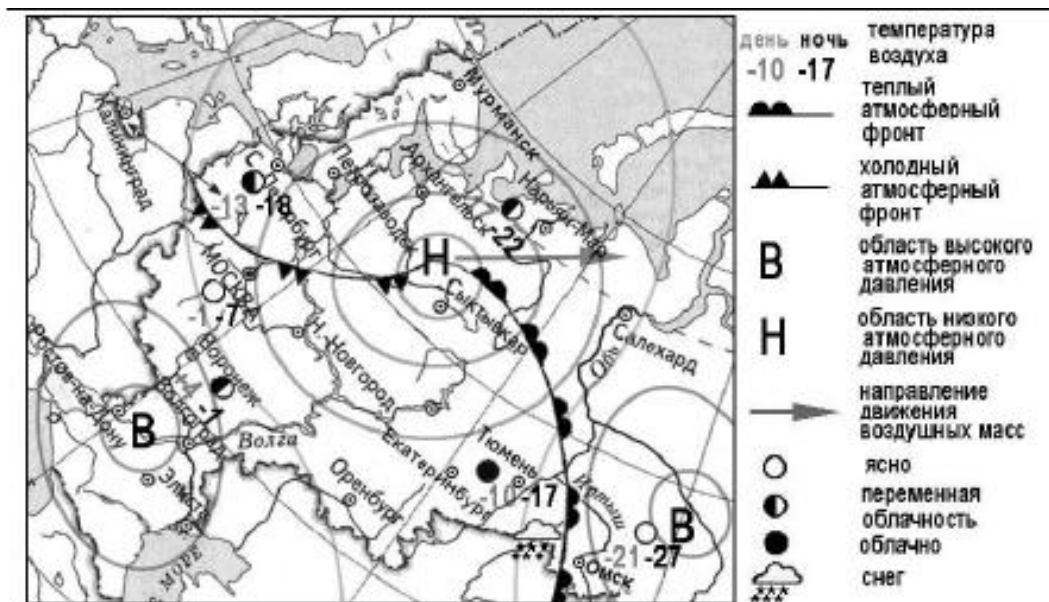
5. Западная Сибирь, Волго-Уральский район, Европейский Север, шельф Сахалина - это крупные ресурсные районы. Определите, запасы какого полезного ископаемого здесь сосредоточены

1) угля; 2) нефти и газа; 3) железных руд; 4) руд цветных металлов

6. Определите, какой из типов климата характеризуется следующим набором свойств: годовая амплитуда температур 50-60 °С, небольшая (0,2-0,3м) высота снежного покрова, господство антициклональных типов погоды?

1) морской; 3) умеренно-континентальный;

2) континентальный; 4) резко континентальный.



7. Какой из перечисленных городов, показанных на карте, находится в зоне действия антициклона?

- 1) Архангельск; 2) Сыктывкар; 3) Ростов-на-Дону; 4) Нижний Новгород

8. Карта погоды составлена на 17 января. В каком из перечисленных городов, показанных на карте, на следующий день вероятно существенное похолодание?

- 1) Москва 2) Омск 3) Тюмень 4) Элиста

9. Определите, какие из перечисленных рек относятся к бассейну Северного Ледовитого океана?

- 1) Дон, Кубань; 2) Волга, Терек, Урал; 3) Амур; 4) Лена, Енисей, Обь.

10. Заполненное водой крупное естественное понижение земной поверхности – это:

- 1) болото 2) река 3) водохранилище 4) озеро

11. Амур, Буря, Зея относятся к рекам с:

- 1) весенним половодьем, 3) летним половодьем,
 2) паводочным режимом, 4) равномерным стоком.

12. Процесс разрушения почвы водой и ветром называется:

- 1) Агротехникой 2) Мелиорацией 3) Эрозией 4) Рекультивацией

13. Какая из перечисленных природных зон занимает наибольшую площадь в России?

- 1) лесотундра 2) тундра 3) тайга 4) степь

14. Группа студентов из Ростова-на-Дону занимается изучением экосистем крупных рек. Какой из перечисленных заповедников им необходимо посетить для изучения экосистем дельты одной из крупнейших рек Сибири?

- 1) Усть-Ленский 3) Печоро-Илычский
2) Тебердинский 4) Окский

15. Для зоны тундр характерны животные (выберите двоих):

- 1) песец 2) белый медведь, 3) лемминг, 4) бурый медведь, 5) лось.

16. Воссоздайте правильную последовательность почвенных горизонтов от поверхности вглубь земли?

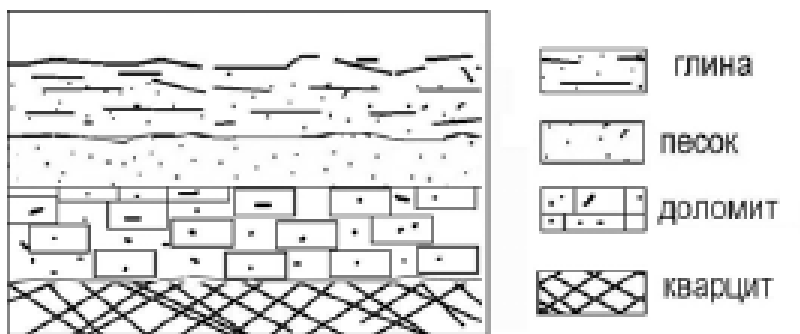
- 1) материнская порода 2) гумусовый 3) вымывания 4) вмывания

17. Какой зональный тип почв формируется под хвойными лесами в условиях избыточного увлажнения и умеренно-теплого лета?

18. Во время экскурсии учащиеся сделали схематическую зарисовку залегания горных пород на обрыве у берега реки.

Расположите показанные на рисунке слои горных пород в порядке **возрастания** их возраста (от самого молодого до самого старого).

Запишите в таблицу получившуюся последовательность букв.



- А) глина
- Б) кварцит
- В) песок

| 1 | 2 | 3 |
|---|---|---|
| | | |

19. Перечислите все известные вам причины большого количества озер в Карелии и на Кольском полуострове. *(Дать развернутый ответ)*

Итоговая контрольная работа по географии за 8 класс

2 вариант

1. Укажите крайнюю восточную материковую точку России

- 1) Мыс Челюскин; 2) Мыс Дежнева; 3) Гора Базардюзю; 4) Мыс Флигели

2. Самая короткая граница России с государством:

- 1) Грузия; 2) КНДР; 3) Азербайджан; 4) Китай.

3. Выявите, какое время показывают часы в Хабаровске (IX часовой пояс), если известно, что в г. Челябинске (IV часовой пояс) в данный момент 7 ч.

- 1) 16 ч.; 2) 24 ч.; 3) 12 ч.; 4) 13ч.

4. Участок древней платформы, где кристаллический фундамент выходит на поверхность земли это –

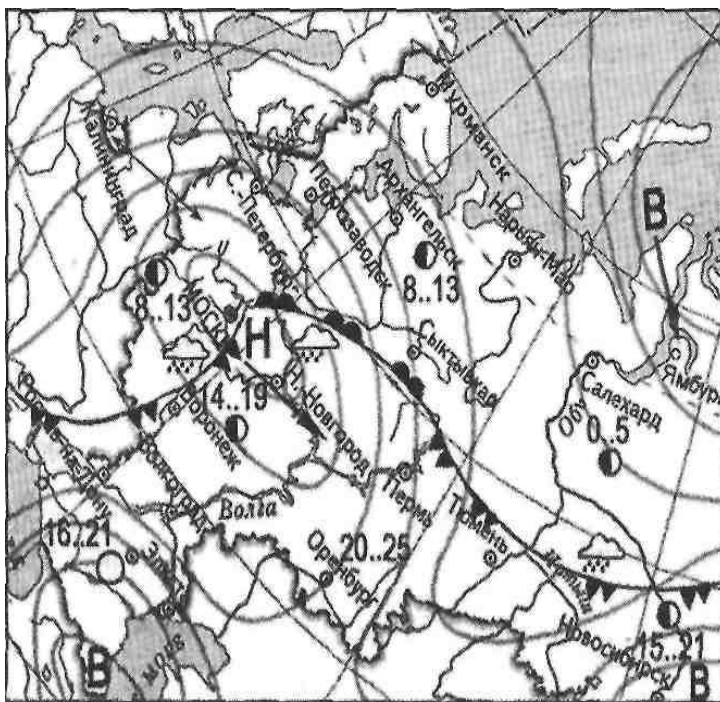
- 1) Щит, 2) Горст, 3) Грабен, 4) Морена

5. Укажите, какой из природных районов России наиболее обеспечен гидроэнергетическими ресурсами:

- 1) Восточно-Европейская равнина;
- 2) Средняя и Северо-Восточная Сибирь;
- 3) Западная Сибирь;
- 4) Дальний Восток.

6. Укажите, какой из перечисленных населенных пунктов имеет среднеянварскую температуру воздуха -24°C

- 1) Москва;
- 2) Мурманск;
- 3) Воркута;
- 4) Якутск.



| | |
|--|---|
| | атмосферный фронт |
| | -холодный атмосферный фронт |
| | -область высокого атмосферного давления |
| | -область низкого атмосферного давления |

7. Какой из перечисленных городов, показанных на карте, находится в зоне действия антициклона?

1) Москва; 2) Нижний Новгород; 3) Новосибирск; 4) Санкт-Петербург.

8. Карта погоды составлена на 13 мая. В каком из перечисленных городов, показанных на карте, на следующий день вероятно существенное похолодание?

1) Воронеж; 2) Сыктывкар; 3) Москва; 4) Санкт-Петербург.

9. Определите, какие из перечисленных рек относятся к бассейну Атлантического океана

1) Дон, Кубань; 2) Волга, Терек, Урал; 3) Амур; 4) Лена, Енисей, Обь

10. Избыточно увлажнённый участок суши с влаголюбивой растительностью – это:

1) водохранилище, 2) река, 3) болото, 4) озеро.

11. Ежегодно повторяющийся подъём уровня воды в реке – это:

1) паводок, 2) режим, 3) межень, 4) половодье.

12. В чём причина массового развития оврагов в Черноземье?

1) вырубка лесов; 3) распашка земель;

2) строительство дорог; 4) осушение болот.

13. Какой из перечисленных типов почв характерен для природной зоны тайги России:

1) подзолистые, 2) серые лесные, 3) каштановые, 4) черноземы.

14. Группа туристов из США хочет своими глазами увидеть природу сибирской тайги и посмотреть окрестности уникального озера Байкал. Какой из перечисленных заповедников им необходимо посетить?

1) Тунгусский; 2) Баргузинский; 3) Буреинский; 4) Дагестанский.

15. Растительный мир зоны тундр в основном представлен следующими растениями (выберите два):

1) кустарничками; 3) лиственными деревьям 5) травами;

2) мхами;

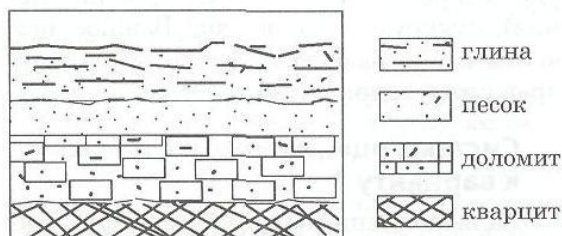
4) хвойными деревьями

16. Перечислите правильный порядок смены типов почв с севера на юг:

1) каштановые; 2) дерно-подзолистые; 3) тундрово-глеевые; 4) подзолистые.

17. В одной из природных зон растения имеют следующие особенности: стелющиеся и карликовые формы, многолетний цикл развития, преобладают мхи и лишайники. Определите природную зону, запишите её название.

18. Во время экскурсии учащиеся сделали схематическую зарисовку залегания горных пород на обрыве у берега реки:



р

Расположите показанные на рисунке слои горных пород в порядке возрастания их возраста (от самого молодого до самого старого).

Запишите в таблицу получившуюся последовательность букв.

А) глина; Б) кварцит; В) песок.

| 1 | 2 | 3 |
|---|---|---|
| | | |

19. Какие факторы в наибольшей степени затрудняет добычу нефти и газа в Западной Сибири, приведите как можно больше известных вам факторов. (Дать развернутый ответ)

СПЕЦИФИКАЦИЯ

итоговой проверочной работы по географии за курс 8 класса школы.

1. Назначение КИМ итоговой контрольной работы.

Контрольные измерительные материалы позволяют установить уровень освоения восьмиклассниками Федерального компонента государственного стандарта основного общего образования по географии 8 класса.

2. Документы, определяющие содержание КИМ.

Содержание итоговой работы определяется на основе документов:

- Федеральный компонент государственного стандарта основного общего образования (приказ Минобрнауки России от 05.03.2004 №1089)
- Программа Домогацких Е.М. (Программа курсов «География» для 5-9 классов. - М.: Русское слово, 2012)

3. Подходы к отбору содержания, разработке структуры КИМ

Отбор содержания, подлежащего проверке в итоговой работе осуществляется в соответствии с разделом «Обязательный минимум содержания основных образовательных программ» Федерального компонента государственных стандартов основного общего образования. В каждый вариант включены задания, проверяющие уровень знания содержания всех основных разделов курса Физической географии России и выполнение основных требования к уровню подготовки восьмиклассников.

4. Структура проверочной работы.

Работа состоит из 19 заданий. Задания проверяют знания, составляющие основу географической грамотности, а также способность применять знания и умения в контекстах, соответствующих основным разделам курса. Работа содержит 14 заданий с выбором одного верного ответа из четырех предложенных, 1 задания с выбором двух правильных ответов из 5, 1 задание с кратким ответом, 2 задания на определение правильного порядка географического явления, 1 задание с развернутым ответом, в которых требуется найти причинно-следственные связи данного явления.

Распределение заданий проверочной работы по частям работы.

| № п/п | Части работы | Число заданий | Максимальный первичный балл | Тип заданий. |
|-------|--------------|---------------------|-----------------------------|--|
| 1 | Часть I | 14 простых | 14 | Выбор одного правильного ответа из 4. |
| 2 | Часть II | 4 средней сложности | 6 | Выбор двух правильных ответов из 5. Дать краткий ответ. Определить правильные порядок географического явления. |
| 3 | Часть III | 1 сложное | 3 | Найти причинно-следственные связи заданного явления природы. |

5. Распределение заданий проверочной работы по содержанию и видам учебной деятельности.

Содержание проверочной работы можно разделить на 6 блоков обязательного минимума содержания образования.

Первый блок включает задания №1-3, по теме «Россия на карте мира». Второй – задания №4, 5, 18 по теме «Геологическое строение и рельеф». Третий – задания №6-8 по теме «Климат России». Четвертый – задания №9, 10, 11, 19 по теме «Внутренние воды». Пятый – задания №12, 16, 17 по теме «Почвы». Шестой – задания №13-15, по теме «Природные зоны».

Проверочная работа предусматривает разные виды учебной деятельности. Задания I части (1-14 и 16) позволяют проверить освоение наиболее значимого содержания: знание фактов и закономерностей по данным темам, элементарных причинно-следственных связей, сформированность простейших географических умений и пространственных представлений. Во II части представлены задания (15, 17, 18), в которых необходимо сделать множественный выбор. Они предполагают более глубокое знание фактов и сформированность пространственных представлений о конкретных территориях. Сложное задание III части (19) направлено на проверку умения выявлять причинно-следственные связи.

Распределение заданий по содержанию и видам учебной деятельности.

| Содержание | Воспроизведение знаний | Применение знаний в знакомой ситуации | Применение знаний в измененной ситуации | Итого |
|---------------------------------|------------------------|---------------------------------------|---|-------|
| Россия на карте мира. | 2 (№1, №2) | 1 (№3) | | 3 |
| Геологическое строение и рельеф | 2 (№4) | 1 (№5) | 1 (№18) | 3 |
| Климат России | - | 3 (№6, №7, №8) | - | 3 |
| Внутренние воды | 1 (№10) | 2 (№9, №11) | 1 (№19) | 4 |
| Почвы | 1 (№12) | 2 (№16, №17) | | 3 |
| Природные зоны | 2 (№13, №15) | 1 (№14) | | 3 |

7. Распределение заданий проверочной работы по уровню сложности.

Работа включает в себя 74% простых заданий, 21% средней сложности и 5% сложных.

8. Время выполнения работы.

На выполнение проверочной работы отводится 45 минут.

9. Число вариантов в работе.

Подготовлено два варианта, в которых даны однотипные задания на проверку одинаковых знаний, умений и тем курса.

Ключ:

| Вариант 1. | | Вариант 2. | |
|------------|---|------------|--------------|
| 1.1); | 13.3); | 1.2); | 13.1); |
| 2.3); | 14.1); | 2.2); | 14.2); |
| 3.1); | 15.1)3); | 3.3); | 15.1)2); |
| 4.1); | 16.2)3)4)1); | 4.1); | 16.3)4)2)1); |
| 5.2); | 17.Подзолистые; 18.АВБ 19.Избыточное | 5.3); | 17.Тундра; |

| | | | |
|--|---|--|--|
| 6.4); 7.3); 8.1); 9.4); 10.4); 11.3); 12.3); | увлажнение, естественные природные углубления. | 6.3); 7.3); 8.1); 9.1); 10.3); 11.4); 12.3); | 18АВБ; 19. Суровый климат, болота. |
|--|---|--|--|

10. Система оценивания отдельных заданий и работы в целом.

За каждый правильный ответ первой части (№1-14) ставится 1 балл. За правильное выполнение каждого из заданий II части, №15, 17 – 1 балл, №16, 18 – 2 балла. За правильно названную причину в 19 вопросе (III часть) – 1 балл, всего 3 балла. Максимальный балл за работу – 23 балла. Оценка «3» получает работа с 7-11, «4» - с 12-17, «5» - с 18-23 баллами.

Перечень проверяемых требований стандарта

| № задания | Проверяемое требование | Тип задания | Количество ответов | Время выполнения задания. |
|-----------|------------------------|-------------|--------------------|---------------------------|
| 1 | Знать/понимать | Выбор | 4 | 2 мин. |
| 2 | Знать/понимать | Выбор | 4 | 2 мин. |
| 3 | Уметь | Выбор | 4 | 2 мин. |
| 4 | Знать/понимать | Выбор | 4 | 2 мин. |
| 5 | Уметь | Выбор | 4 | 2 мин. |
| 6 | Уметь | Выбор | 4 | 2 мин. |
| 7 | Уметь | Выбор | 4 | 2 мин. |
| 8 | Уметь | Выбор | 4 | 2 мин. |

| | | | | |
|----|--|--|---|--------|
| 9 | Уметь | Выбор | 4 | 2 мин. |
| 10 | Знать/понимать | Выбор | 4 | 2 мин. |
| 11 | Уметь | Выбор | 4 | 2 мин. |
| 12 | Знать/понимать | Выбор | 4 | 2 мин. |
| 13 | Знать/понимать | Выбор | 4 | 2 мин. |
| 14 | Уметь | Выбор | 4 | 2 мин. |
| 15 | Знать/понимать | Выбор | 5 | 2 мин. |
| 16 | Уметь | Определить правильные порядок географического явления. | 4 | 3 мин. |
| 17 | Уметь | Дать краткий ответ | - | 2 мин. |
| 18 | Использовать приобретенные знания и умения в практической деятельности и повседневной жизни | Определить правильные порядок географического явления. | 3 | 3 мин. |
| 19 | Использовать приобретенные знания и умения в практической деятельности и повседневной жизни | Найти причинно- следственные связи заданного явления природы. | - | 5 |

**Итоговая контрольная работа по географии 9 класс
ВАРИАНТ 1.**

1. Какая из перечисленных областей имеет выход к Государственной границе Российской Федерации?

- А) Нижегородская Б) Свердловская В) Брянская Г) Новгородская

2. Укажите страну, с которой у России самая протяженная граница:

- А) Китай Б) Украина В) Монголия Г) Казахстан

3. Восточная Сибирь в России является главным районом производства

- А) железной руды Б) алюминия В) угля Г) нефти

4. Определите, к традиционным занятиям, какого из перечисленных народов России относится оленеводство, охота, рыболовство?

- А) калмыки Б) осетины В) манси Г) кабардинцы

5. Расположите города в порядке уменьшения в них численности населения. Запишите получившуюся последовательность букв.

- А) Брянск Б) Санкт-Петербург В) Новосибирск

6. Туристические фирмы разных регионов России разработали слоганы (рекламные лозунги) для привлечения туристов в свои регионы.

Установите соответствия, соответствующие выбранным ответам.

| <i>РЕГИОН</i> | <i>СЛОГАН</i> |
|--------------------------|---|
| 1) Пермский край | А) Посети город оружия, самоваров и пряников |
| 2) Республика Карелия | Б) Выборг и Кронштадт - города военной истории России |
| 3) Тульская область | |
| 4) Ленинградская область | |

№ 7 и 8 по тексту.

Волгоградский алюминиевый завод (ВГАЗ) входит в состав Объединённой компании «Российский алюминий» (ПС Кива1). Среди потребителей продукции завода числятся предприятия авиастроительной, машиностроительной, электротехнической отраслей, а также компании промышленного и гражданского строительства и производители товаров народного потребления.

7. С каким из перечисленных регионов граничит Волгоградская область?

- А) Республика Коми В) Республика Калмыкия

Б) Рязанская область

Г) Псковская область

8. Какие две особенности Волгоградской области обусловили выбор г. Волгограде строительство алюминиевого завода?

9. Расположите регионы России в той последовательности, в которой их жители встречают Новый год. Запишите получившуюся последовательность букв.

А) Чукотский АО Б) Смоленская область В) Омская область

10. Какой регион входит в состав Поволжья:

А) Ростовская область

Б) Астраханская область

В) Воронежская область

Г) Республика Хакасия

11. Установите соответствие:

| СУБЪЕКТ | ЦЕНТР |
|------------------------|------------------|
| 1. Республика Алтай | А) Улан-Удэ |
| 2. Республика Башкирия | Б) Уфа |
| 3. Республика Бурятия | В) Горно-Алтайск |

12. Определите район по его описанию.

Осью этого района является самая крупная река европейской части России. Район вытянут в меридиональном направлении. Отраслями специализации являются машиностроение, химическая промышленность, гидроэнергетика. Район имеет благоприятные природные условия для развития АПК.

А) Поволжье Б) Урал В) Северный Кавказ Г) Центральный

13. Определите регион России по его краткому описанию.

Территория этой области, расположенной на берегу моря, равнинная и низменная. В этническом составе преобладают русские, хотя в названиях географических объектов много немецких названий. Половина всего населения области сосредоточена в областном центре. Главные отрасли специализации — рыбная, машиностроительная и целлюлозно-бумажная. В перспективе морские порты области могут обслуживать потребности не только России, но и некоторых европейских стран. В области развита сеть курортов. Здесь создана открытая торговая зона.

14. Определите экономический район по набору характеристик:

а) Это район нефти, газа и угля.

б) Значительная часть района заболочена.

в) Распространен «вахтовый» метод работы.

15. Определите экономический район по набору характеристик:

а) на востоке района находятся месторождения угля, нефти и газа;

б) имеются крупные запасы лесных ресурсов;

в) на юге района - область, которая славится производством Масла;

г) на северо-западе района находится незамерзающий порт.

16. Определите экономический район по набору характеристик:

- а) В состав района входят только области.
- б) Это индустриальное ядро России.
- в) Отраслями специализации являются точное и наукоемкое машиностроение, химическая и текстильная промышленности.

17. Определите экономический район по набору характеристик:

- а) район отличается многонациональным составом населения;
- б) население размещается неравномерно;
- в) высокая плотность сельского населения;
- г) АПК и рекреационное хозяйство - ведущие отрасли хозяйства

**Итоговая контрольная работа по географии 9 класс
ВАРИАНТ 2.**

1. С каким из перечисленных государств Россия имеет сухопутную границу :

- А) Швеция Б) Молдавия В) Армения Г) Норвегия

2. Укажите страну, с которой у России самая короткая граница:

- А) Китай Б) Норвегия В) КНДР Г) Монголия

3. Западная Сибирь в России является главным районом производства:

- А) алюминия Б) железной руды В) нефти Г) Фосфоритов

4. Определите, к традиционным занятиям, какого из перечисленных народов России относится оленеводство, охота, рыболовство?

- А) пермяки Б) чукчи В) калмыки Г) чеченцы

5. Расположите города в порядке увеличения в них численности населения. Запишите получившуюся последовательность букв.

- А) Челябинск Б) Астрахань В) Магадан

6. Туристические фирмы разных регионов России разработали слоганы (рекламные лозунги) для привлечения туристов в свои регионы.

Установите соответствия, соответствующие выбранным ответам.

| <i>РЕГИОН</i> | <i>СЛОГАН</i> |
|------------------------------------|--|
| 1) Кабардино-Балкарская Республика | А) Добро пожаловать в «Янтарный край», самый западный регион России! |
| 2) Калининградская область | |
| 3) Архангельская область | Б) Здесь можно любоваться горными ландшафтами: сверкающими голубизной ледниками, зеленеющими альпийскими лугами. |
| 4) Чувашская Республика | |

№ 7 и 8 по тексту.

АО «Котласский ЦБК» — «Котласский целлюлозно-бумажный комбинат» (юг Архангельской области, город Коряжма) — крупнейшее в России предприятие по комплексной безотходной химической переработке древесины хвойных и лиственных пород. Котласский ЦБК вырабатывает более миллиона тонн целлюлозы разных видов, сотни тысяч тонн печатной и технической бумаги, картона, древесно-волоконистые плиты и другие виды продукции.

7. Картами какого экономического района России нужно воспользоваться для того, чтобы определить местоположение г. Коряжма?

- А) Уральского Б) Западно-Сибирского В) Северного Г) Дальневосточного

8. Объясните, какие две особенности Архангельской области, способствовали размещению в г. Коряжма целлюлозно-бумажного комбината.

9. Расположите регионы России в той последовательности, в которой их жители встречают Новый год. Запишите получившуюся последовательность букв.

- А) Пензенская область Б) Камчатский край В) Кемеровская область

10. Какой регион входит в состав Центрально - Черноземного района:

- А) Ростовская область Б) Астраханская область
В) Воронежская область Г) Республика Хакасия

11. Установите соответствие:

| СУБЪЕКТ | ЦЕНТР |
|------------------------|---------------|
| 1. Республика Коми | А) Йошкар-Ола |
| 2. Республика Калмыкия | Б) Сыктывкар |
| 3. Республика Марий Эл | В) Элиста |

12. Определите район по его описанию.

На территории района находится несколько крупных морских портов. Отраслями специализации являются лесная, рыбная, цветная металлургия. Район имеет претензии со стороны «морского соседа».

- А) Северный Б) Северокавказский В) Дальневосточный Г) Поволжский

13. Определите регион России по его краткому описанию.

Республика расположена в Азиатской части страны. На юге граница совпадает с Государственной границей Российской Федерации. Республика богата полезными ископаемыми: здесь имеются крупные залежи свинцово-цинковых, молибденовых, вольфрамовых, урановых руд, а также месторождения угля и многих других полезных ископаемых. На территории Республики находится около 60% береговой линии самого глубокого пресноводного озера в мире.

14. Определите экономический район по набору характеристик:

- а) Это самый многонациональный район России.
б) На юге района распложены горы.
в) Большая часть населения живет в станицах и аулах.

15. Определите экономический район по набору характеристик:

- а) Это самый маленький по площади район.
б) Важнейшая отрасль специализации - машиностроение.
в) Крупнейший город района - морской порт.

16. Определите экономический район по набору характеристик:

- а) На западе района ведется добыча руд, а на востоке - топлива (угля, нефти, газа).
- б) Коренное население района относится к финно-угорской группе.
- в) Здесь недавно начата добыча алмазов.

17. Определите экономический район по набору характеристик:

- а) богатые минеральные ресурсы;
- б) металлургическая база - старейшая в стране;
- в) развито тяжелое машиностроение;
- г) основная проблема - экологическая

ОТВЕТЫ

| 1 вариант |
|---|
| 1 – В |
| 2 – Г |
| 3 – Б |
| 4 – В |
| 5 – БВА |
| 6 – 3А, 4Б |
| 7 – В |
| 8. 1 – наличие дешёвой энергии; 2 – близко потребитель |
| 9 – АВБ |
| 10 – Б |
| 11 – 1В, 2Б, 3А |
| 12 – А |
| 13 – Калининградская область |
| 14 – Западно-Сибирский |
| 15 – Европейский Север |
| 16 – Центральный |
| 17 – Европейский Юг |

Европейский Юг могут назвать Северо-Кавказским районом,
8 Вопрос оценивается 2 баллами, если названы 2 особенности.

«5» - 18-20

«4» - 14-17

«3» - 10-13